



INTEGRALLASH YORDAMIDA YECHILADIGAN BA'ZI FIZIK MASALALAR TAHLILI

Matchonov Quvonchbek Po'lat o'g'li

O'zbekiston milliy universiteti, Fizika fakulteti, Yadro fizikasi va yadro texnologiyalari (qo'llash sohalari bo'yicha) yo'nalishi 1-bosqich

magistranti, kuvonchbekmatchonov@gmail.com

<https://doi.org/10.5281/zenodo.6055706>

MAQOLA TARIXI

Qabul qilindi: 15-dekabr 2021

Ma'qullandi: 15-yanvar 2022

Chop etildi: 5-fevral 2022

KALIT SO'ZLAR

Trayektoriya tenglamasi, egri chiziqli yoy, egri chiziqli integral, uchish uzoqligi, uchish vaqti, o'rtacha tezlik

ANNOTATSIYA

Ushbu maqolada biror balandlikdan gorizonttal yo'nalishda otilgan jismning butun harakatlanish vaqti davomidagi o'rtacha tezlik modulini hisoblash metodikasi; harakati davomida massasi uzluksiz ravishda o'zgarib boruvchi jismlarning harakat qonunini keltirib chiqarish; integrallash usuli bilan yechiladigan ba'zi Elektrostatika masalalarini yechish metodikasi to'g'risida fikr yuritiladi.

Fizikadan masalalar yechishda egri chiziqli integrallardan foydalanish

Ma'lum balandlikdan biror boshlang'ich tezlik bilan gorizonttal otilgan jismning yerning tortish maydonidagi harakatini ko'rib chiqamiz. Bunda havoning qarshiligini hisobga olmaymiz. U holda bu jism x o'qi bo'yicha tekis harakatlanadi. Chunki bu yo'nalishda jismga hech qanday kuch ta'sir etmaydi. Shu bilan birga jism vertikal yo'nalishda g tezlanish bilan tekis tezlanuvchan harakat qiladi. Jismning har ikkala (x va y) o'qlardagi harakat tenglamalarini tuzib olamiz:

$$x = g_0 t \quad (1)$$

$$y = h - \frac{gt^2}{2} \quad (2)$$

(1) va (2) tenglamalardan t ni yo'qotib, quyidagini hosil qilamiz:

$$y(x) = h - \frac{gx^2}{2g_0^2} \quad (3)$$

Bu tenglamadan ko'rinadiki, qaralayotgan jismning harakat trayektoriyasi paraboladan iboratdir.

Bizga shu jismning butun harakati davomidagi o'rtacha tezligini aniqlash masalasi qo'yilgan bo'lsin. Ma'lumki, o'rtacha tezlik moduli jism bosib o'tgan butun yo'lning shu yo'lni bosib o'tish uchun ketgan butun vaqtga nisbati bilan aniqlanadi. Jismning butun harakatlanish vaqtini (2) tenglamaning chap tarafini 0 ga tenglashtirib, osongina aniqlash mumkin. Jism yerga urilgan momentda $y=0$.

$$t = \sqrt{\frac{2h}{g}} \quad (4)$$

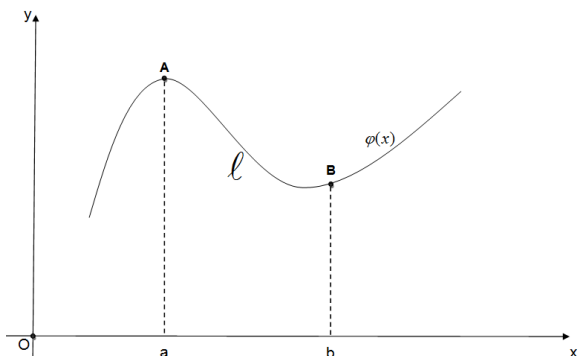
Keyingi masala, jismning butun harakati ya'ni otilish nuqtasidan to yerga urilgunicha bosib o'tgan yo'lni aniqlash masalasidir. Buning uchun (3) tenglama bilan aniqlanadigan parabolaning chegaralangan qismining uzunligini ya'ni



egri chiziqli yoyning uzunligini aniqlash lozim.

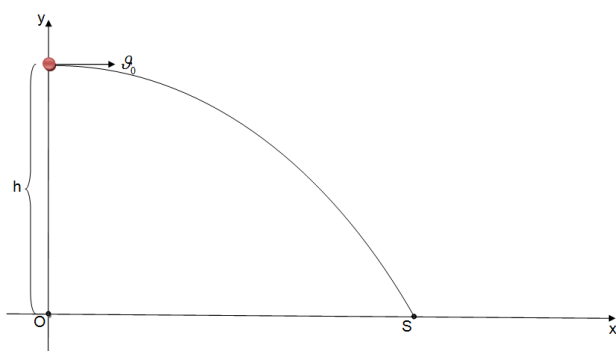
Matematik analiz kursidan ma'lumki, egri chiziqli yoyning uzunligi quyidagi formula yordamida aniqlanadi:

$$AB = \ell = \int_a^b \sqrt{1 + (\varphi'(x))^2} dx$$



Xuddi shu yo'l bilan biz qarayotgan jismning bosib o'tgan masofasini ham aniqlash mumkin. Bunda yuqoridagi formulani quyidagicha yozib olamiz:

$$L = \int_0^S \sqrt{1 + (y'(x))^2} dx \quad (5)$$



(3) tenglamaga asosan, $y(x)$ dan birinchi tartibli hosila olsak,

$$y'(x) = -\frac{gx}{g_0^2} \quad (6) \text{ ga ega bo'lamiz.}$$

$$(6) \text{ ni } (5) \text{ ga qo'yib, } L = \int_0^s \sqrt{1 + \frac{g^2 x^2}{g_0^4}} dx \quad (7)$$

tenglamani hosil qilamiz.

(7) tenglamaga quyidagicha belgilash kiritamiz:

$$\frac{g^2}{g_0^4} = a \quad (8)$$

(8) ni (7) ga qo'ysak,

$$L = \int_0^S \sqrt{1 + ax^2} dx \quad (9) \text{ kelib chiqadi.}$$

(9) ko'rinishidagi integrallarni quyidagicha hisoblash mumkin:

Bunda, $tgw = \sqrt{ax}$ almashtirish bajaramiz.

Bunga asosan, $x = \frac{tgw}{\sqrt{a}}$ bo'ladi.

$$\int \sqrt{1 + ax^2} dx = \int \sqrt{1 + tg^2 w} \cdot \frac{tgw}{\sqrt{a}} \cdot \frac{1}{\cos^2 w} dw = \frac{1}{\sqrt{a}} \int \sec^3 w dw = \frac{1}{\sqrt{a}} \left(\frac{\sec^2 w \sin w}{2} + \frac{1}{2} \int \sec w dw \right)$$

$$\frac{1}{2\sqrt{a}} (\sec^2 w \sin w + \ln |\sec w + tgw|) = \frac{1}{2\sqrt{a}} (\sqrt{ax} \sqrt{ax^2 + 1} + \ln |\sqrt{ax} + \sqrt{ax^2 + 1}|) = \frac{x\sqrt{ax^2 + 1}}{2} + \frac{\ln |\sqrt{ax} + \sqrt{ax^2 + 1}|}{2\sqrt{a}}$$

$$\sec w = \sqrt{1 + tg^2 w} = \sqrt{1 + ax^2}$$

$$\sin w = \sqrt{1 - \cos^2 w} = \sqrt{1 - \frac{1}{\sec^2 w}} = \frac{\sqrt{ax}}{\sqrt{ax^2 + 1}}$$

Va nihoyat,

$$L = \left(\frac{x\sqrt{ax^2 + 1}}{2} + \frac{\ln |\sqrt{ax} + \sqrt{ax^2 + 1}|}{2\sqrt{a}} \right) \Bigg|_0^S$$

ekanligi kelib chiqdi. Demak,

$$L = \frac{S\sqrt{aS^2 + 1}}{2} + \frac{\ln |\sqrt{aS} + \sqrt{aS^2 + 1}|}{2\sqrt{a}} \quad (10)$$

(10) tenglamadagi S jismning uchish uzoqligidir. Ya'ni,

$$S = g_0 t = g_0 \sqrt{\frac{2h}{g}} \quad (11) \quad \bar{g} = \frac{L}{t} \quad (12)$$

(4), (8), (10), (11) va (12) tenglamalarga asosan o'rtacha tezlikning quyidagicha ifodasini hosil qilamiz:

$$\bar{g} = \frac{\sqrt{g_0^2 + 2gh}}{2} + \frac{g_0^2}{2\sqrt{2gh}} \cdot \ln \left| \frac{\sqrt{g_0^2 + 2gh} + \sqrt{2gh}}{g_0} \right|$$

O'zgaruvchan massali jism harakat qonunini keltirib chiqarish

Ba'zi jismlarning massasi ularning harakati davomida uzluksiz ravishda o'zgarib boradi. Masalan, harakatlanayotgan tomchining massasi uning bug'lanishi hisobiga kamayib borishi yoki aksincha, uning sirtida bug'larning kondensatsiyalanishi hisobiga ortib



borishi, suv sepyotgan mashina massasining kamaya borishi, ip o'ralayotgan g'altakning massasi ortib borishi bunday harakatga yaqqol misol bo'ladi. Jism massasining o'zgarishi uning harakatini o'rganishda muayyan qiyinchiliklar tug'diradi. O'z massasining mbiror qismini ma'lum yo'nalishda uloqtirganda, jism qarama-qarshi yo'nalishda impuls oladi. Bu keng qo'llaniladigan *reaktiv harakat* prinsipidir. O'zgaruvchan massali jism harakat qonunini raketaning harakati misolida ko'rib chiqamiz. Faraz qilaylik, bizga yer bilan bog'langan XOY koordinatalar sistemasi berilgan bo'lib, biror t vaqt momentida raketaning masasi m ga, tezligi v ga teng bo'lsin. $t_1 = t + dt$ vaqt momentida esa raketaning soplosidan yonilg'i otilib chiqishi natijasida uning tezligi ortib, $v_1 = v + dv$ ga teng bo'lib qoladi. Shuni alohida ta'kidlash joizki, vaqt o'tishi bilan raketa massasining kamaya borishini hisobga olsak, birlik vaqt ichidagi massa kamayishini ifodalovchi μ kattalik quyidagicha bo'ladi:

$$\mu = -\frac{dm}{dt} \quad \mu \text{ kattalik musbatdir.}$$

Masalan, $\mu = 10 \frac{kg}{s}$. Bu qiymat raketa massasi har sekunda 10 kg ga kamayishini bildiradi. dm massa o'zgarishi esa manfiydir:

$$dm = m_2 - m_1 < 0$$

Shuning uchun dt vaqt ichida raketa soplosidan otilib chiqqan gaz massasi $-dm$ deb olinadi. Sistemaning t va t_1 vaqt momentlaridagi impulslari mos ravishda quyidagilarga tengdir:

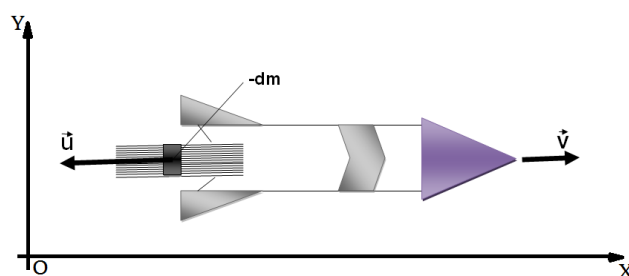
$$p_1 = mv$$

$$p_2 = (m - (-dm))(v + dv) - (-dm)V$$

Gazlarning raketaga nisbatan otilib chiqish tezligi u ga teng, V esa ularning yerga nisbatan tezligidir. $u > v$ ekanligini hisobga olsak, $V = u - v_1$ ni hosil qilamiz. U holda

$$p_2 = (m + dm)(v + dv) + dm(u - (v + dv)) = mv + mdv + dm u$$

bo'lishi kelib chiqadi.



Sistema impulsining o'zgarishi kuch impulsiga tengligidan,

$$dp = F dt$$

Bunda F raketa dvigatelining tortish kuchi.

$$p_2 - p_1 = F dt$$

$$mdv + dm u = F dt$$

Yuqoridagi ifodadan quyidagini hosil qilamiz:

$$m \frac{dv}{dt} = F - u \frac{dm}{dt}$$

Bu tenglama o'zgaruvchan massali jism harakati uchun Meshcherskiy tenglamasidir.

$$F = 0 \text{ bo'lganda,}$$

$$-u dm = m dv$$

$$\int_{M_0}^M \frac{dm}{m} = -\int \frac{dv}{u}$$

$$\ln\left(\frac{M}{M_0}\right) = -\frac{v}{u}$$

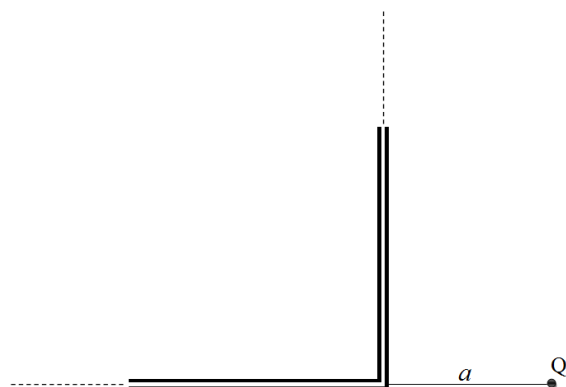


$$M = M_0 e^{-\frac{v}{u}}$$

Yuqoridagi ifodadan ko'rinadiki, raketa tezligi ortishi bilan massasi kamayib boradi.

Elektrostatika masalalarini yechishda integraldan foydalanish

Elektrostatikada qo'zg'almas zaryadlar orasidagi o'zaro ta'sirlashuv, ular hosil qiluvchi elektr maydonlar kabi tushunchalar o'rganiladi. Bunda ba'zi amaliy masalalar integrallash yo'li bilan hal qilinadi. Na'muna sifatida quyidagi masalaning yechimini ko'rib chiqamiz. Bizga rasmda ko'rsatilganidek to'g'ri burchak ostida bukilgan cheksiz uzun, τ chiziqli zichlik bilan zaryadlangan bir jinsli tayoqcha berilgan bo'lsin. Undan biror a masofada turgan Q nuqtaviy zaryadga ta'sir qiluvchi kuchni topish masalasini qarab chiqamiz.



Bu masalani yechish uchun quyidagicha yo'l tutamiz:

Dastlab tayoqcha vertikal qismining Q zaryadga ta'sirini alohida topamiz.

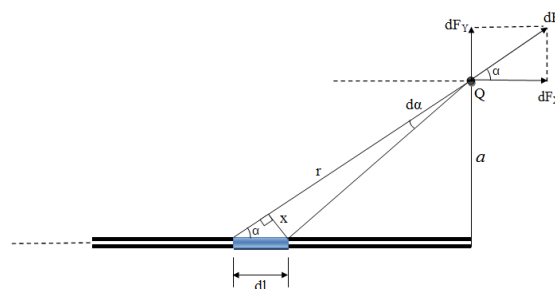
So'ngra uning gorizontal qismining zaryadga ta'sir kuchini aniqlaymiz. Har bir qismning alohida ta'sir kuchlarini vektor ko'rinishda qo'shib, Q nuqtaviy zaryadga ta'sir qilayotgan natijaviy kuchni topamiz.

Kulon qonuniga ko'ra, ikki nuqtaviy zaryadning o'zaro ta'sirlashuv kuchining moduli, ular zaryad miqdorlarining ko'paytmasiga to'g'ri, oralaridagi masofaning kvadratiga esa teskari proporsionaldir. Shuni eslatib o'tish kerakki, "nuqtaviy zaryad" deganda, o'lchamlari ular orasidagi masofaga qaraganda ko'p marta kichik bo'lgan zaryadlangan jismlar nazarda tutiladi. Masalan, qandaydir miqdorda zaryadlangan ikki sharchani ularning olchamlari bilan solishtirganda juda ko'p marta farq qiluvchi, yetarlicha uzoq masofaga joylashtiraylik. Bu ta'sirlashuv jarayonida zaryadlangan sharchalarni "nuqtaviy zaryad" deb qarashimiz mumkin bo'ladi.

Vertikal qismning ta'siri:

Bunda tayoqchanning ixtiyoriy qismidagi biror elementar dq zaryadga ega bo'lgan dl bo'lakcha va Q zaryadning ta'siri quyidagicha bo'ladi:

$$dF = k \frac{Qdq}{r^2}$$



Chizmadan ko'rinib turibdiki,

$$\sin \alpha = \frac{x}{dl}$$

$$\sin \alpha = \frac{a}{r}$$

$$d\alpha = \frac{x}{r}$$



Zaryadning chiziqli zichligi (o'tkazgichning birlik uzunligiga to'g'ri keluvchi zaryad miqdori). Mazkur masalada, tayoqcha zaryadining zichligi uning butun uzunligi bo'yicha o'zgarmaydi deb qaraladi)

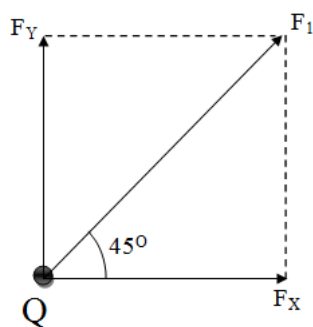
$\tau = \frac{dq}{dl}$ ni inobatga olib, quyidagini hosil qilamiz:

$$dF = k \frac{Q\tau}{a} d\alpha, \quad \begin{matrix} dF_x = dF \cos \alpha \\ dF_y = dF \sin \alpha \end{matrix}, \quad 0^\circ \leq \alpha \leq 90^\circ.$$

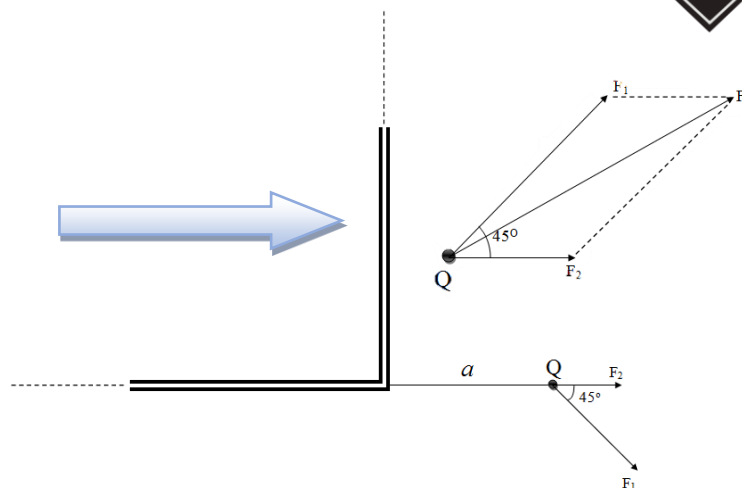
$$F_x = \int_0^{\frac{\pi}{2}} dF_x = k \frac{Q\tau}{a} \int_0^{\frac{\pi}{2}} \cos \alpha d\alpha = k \frac{Q\tau}{a}$$

$$F_y = \int_0^{\frac{\pi}{2}} dF_y = k \frac{Q\tau}{a} \int_0^{\frac{\pi}{2}} \sin \alpha d\alpha = k \frac{Q\tau}{a}$$

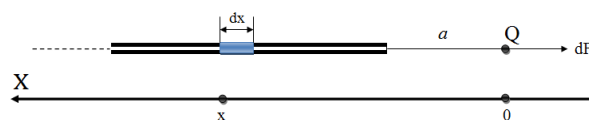
$$F_x = F_y$$



$$F_1 = \sqrt{F_x^2 + F_y^2} = \sqrt{2} k \frac{Q\tau}{a}$$



Horizental qismning ta'siri:



$$dF = k \frac{Qdq}{x^2}, \quad \tau = \frac{dq}{dx}, \quad a \leq x \leq a+l, \quad l \gg a.$$

$$F_2 = \int_a^{a+l} dF = kQ\tau \int_a^{a+l} \frac{dx}{x^2} = kQ\tau \left(\frac{1}{a} - \frac{1}{a+l} \right) = k \frac{Q\tau}{a}$$

Natijalovchi kuch:

$$F = \sqrt{F_1^2 + F_2^2 + 2F_1F_2 \cos 45^\circ} = \sqrt{5} k \frac{Q\tau}{a}$$

Foydalanilgan adabiyotlar:

1. А.Саъдуллаев, Х.Мансуров, Г.Худойбергенов, А.Ворисов, Р.Гуломова. Математик анализ курсидан мисол ва масалалар туплами II, Тошкент, «Ўзбекистон»-1995.
2. С.П.Стрелков. Умумий физика курси, Механика. Тошкент, «Ўқитувчи»-1977
3. Д.В.Сивухин. Умумий физика курси, Механика. Тошкент, «Ўқитувчи»-1981
4. М.Раҳматуллаев. Умумий физика курси, Механика. Тошкент, «Ўқитувчи»-1995.
5. Д.Х.Усмонова. Физикадан масалалар ечиш. «Ўқитувчи», Тошкент-1988.
6. М.Н.О'лмасова. Академик litseylar uchun o'quv qo'llanma, 2-kitob. «O'QITUVCHI», NASHRIYOT-MATBAA IJODIY UYI, Toshkent-2004.
7. Ў.К.Назаров. Умумий физика курси, Электр ва Электромагнетизм, II жилд. «ЎЗБЕКИСТОН», Тошкент-2002.

